

Задания по номинации
«Культура дома и декоративно-прикладное творчество»

10-11 класс

Теоретический тур

Время выполнения – 90 мин.

Тест (115)
практика 14+20
проект 405
785

Инструкция для учащихся

Теоретические задания первого тура состоят из 25 заданий, в которых предложены теоретические вопросы, на которые следует дать исчерпывающий ответ, и творческие задания.

Задача участника - внимательно ознакомиться с предложенными заданиями и выполнить их в строгом соответствии с формулировкой.

Каждый правильный ответ в заданиях с 1 по 24 оценивается в 1 балл. Задание 25 оценивается в 11 баллов.

Всего за теоретический тур максимальное количество баллов, которое может набрать участник, составляет 35 баллов.

Желаем удачи!

1. *Закончите предложение:*

Практическая область гигиены, направленная на соблюдение строгого режима в процессе хранения пищевых продуктов, приготовления и реализации пищи, называется санитария

2. *Укажите один правильный ответ:*

Композиция интерьера это – ...

- а. разделение пространства на отдельные зоны;
- б. утилитарные и декоративные элементы, украшающие быт человека;
- в. особое расположение и соотношение составных частей интерьера.

3. *Укажите один правильный ответ:*

Составление спецификации на изготавливаемое изделие является элементом...

- а. поисково-исследовательского этапа проектирования;
- б. технологического этапа проектирования;
- в. заключительного этапа проектирования.

4. *Впишите правильные ответы:*

Определите по снимкам названия народных промыслов-игрушек и

подпишите их (Каргопольская игрушка ; Филимоновская игрушка;
Романовская игрушка; Абашевская игрушка):



Ответ: 1 - Филимоновская [#]; 2 - Романовская [—]
3 - Абашевская [—]; 4 - Абашевская [—];
5 - Каргопольская [—] Филимоновская [—]

5. Укажите один правильный ответ:

Электрическая цепь в квартире при перегрузке или коротком замыкании размыкается...

- а. плавкими предохранителями или перекидными выключателями;
 б. автоматическими выключателями или плавкими предохранителями;
 в. автоматическими или кнопочными выключателями.

6. Укажите один правильный ответ:

Жидкое тесто, приготовленное из муки в/с, молока, яиц и соли, используемое при жарении рыбы, называется...

- а. льезон; б. фритюр; в. кляр.

7. Укажите один правильный ответ:

Деталь, с помощью которой обрабатывают застёжку, называется...

- а. обтачка; б. подборт; в. кокетка.

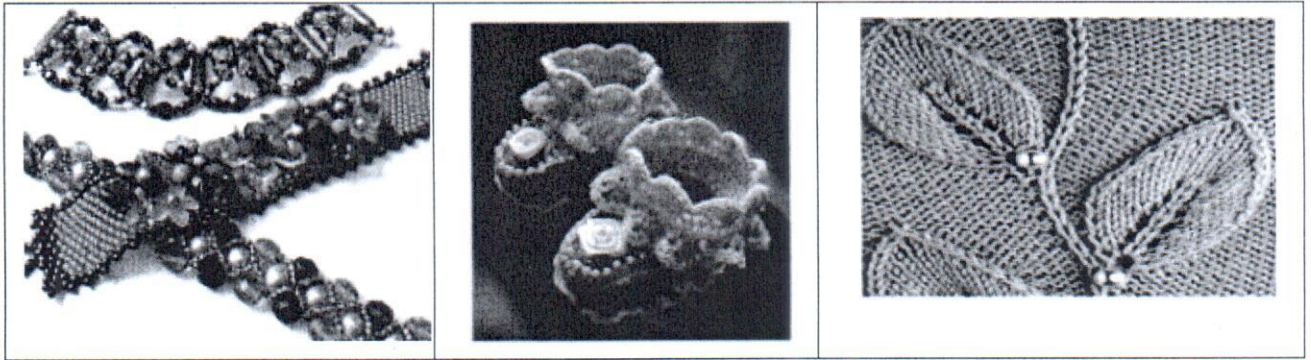
8. Укажите один правильный ответ:

Отделочная деталь, выкроенная по спирали, кольцу или волану, называется...

- а. подкройной обтачкой; б. косой бейкой;
 в. воланом; г. окантовкой.

9. Впишите правильные ответы:

Напишите, в какой технике выполнены изделия, показанные на рисунках



1. Бисероплетение 2. Вязание крючком 3. Вязание

10. Укажите один или несколько правильных ответов:

Выбор своей профессии в первую очередь определяется:

- а. востребованностью данной профессии в регионе;
- б. наличием образовательных учреждений определенного профиля;
- в. советом близких людей;
- г. образом жизни;
- д. состоянием вашего здоровья;
- е. эффективностью общественного производства.

11. Укажите один или несколько правильных ответов:

Экологическая оценка будущего проектного изделия позволяет определить:

- а. затраты на его изготовление;
- б. влияние процесса изготовления изделия и самого изделия на здоровье производителя и потребителя;
- в. загрязнение окружающей среды при изготовлении проектного изделия;
- г. возможности использования отходов.

12. Впишите правильные ответы:

Впишите слово, аргументируйте:

- а. собственник капитала получает доход в виде

прибыль / процент

- б. собственник информационных ресурсов получает доход в виде

товар

- в. собственник земли получает доход в виде

аренда

13. Установите соответствие:




Установите соответствие между изображением вышивки и её названием:

Название вышивки	Изображение
1. Атласная гладь	а. 
2. Штриховая гладь	б. 
3. Двусторонняя гладь	в. 

Ответ: 1 - А; 2 - В; 3 - Б 0

14. Установите соответствие:

Установите соответствие между изображением символа по уходу за одеждой и его значением:

Изображение символа	Значение символа
1. 	а) Чистка с обычными реагентами
2. 	б) Химчистка с любым растворителем
3. 	в) Чистка только уайт-спиритом

Ответ: 1 - Б+; 2 - В+; 3 - А+ 1

15. Запишите правильный ответ:

Перечислите не менее трёх основных функций семьи:

Воспитание детей, обеспечение, 0

16. Запишите правильные ответы:

Назовите приспособления к швейной машине:

Изображения приспособлений	Наименования приспособлений
	а)
	б)
	в)
	г) <i>Литка</i> 0

17. Закончите фразу:

Выделенный определённым образом участок жилья, где протекают различные жизненные процессы человека: сон, гигиенические процедуры, питание, обучение, отдых, - называется

жилье


18. Выберите правильный ответ:

Счетчик электрической энергии измеряет:

- а. силу тока ;
- б. напряжение сети ;
- в. мощность потребляемой электроэнергии;
- г. расход энергии за определенное время.

19. Впишите правильные ответы:

Подпишите под рисунками представленные на них виды росписи по ткани



1 - _____

2 - _____

3 - Батик

20. Укажите один правильный ответ:

Появление денег вызвано ...

- а. неудобством товарного обмена
- б. несовершенством общественного устройства;
- в. страстью людей к наживе;
- г. становлением государства.

21. Укажите один правильный ответ:

Налог – это...

- а. способ денежного обращения в стране;
- б. установленный государством обязательный платёж, взимаемый с физических и юридических лиц;
- в. заем, предоставляемый организации или физическому лицу;
- г. выпуск в обращение денежных знаков

22. Укажите один правильный ответ:

Образуется в организме под воздействием солнечных лучей витамин...

- а. С;
- б. Е;
- в. Д;
- г. А;
- д. РР.

23. Установите соответствие между профессией и предметом труда профессиональной деятельности

Профессия		Предмет труда	
1	Учитель	А	Знаковая система
2	Бухгалтер	Б	Человек
3	Художник	В	Природа
4	Зоотехник	Г	Техника
5	Инженер	Д	Художественный образ

Ответ: 1 - Б+; 2 - А+; 3 - В+;
4 - В+; 5 - Г+.

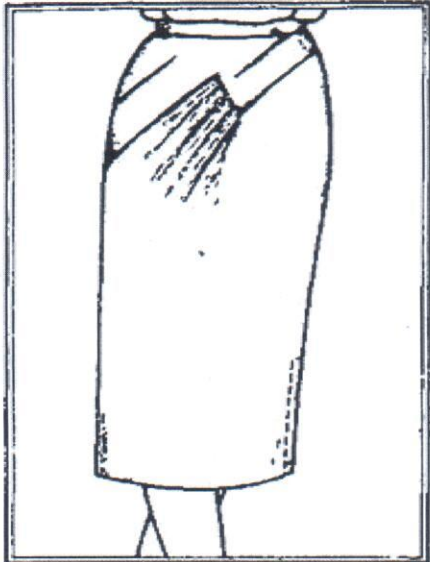
24. Установите соответствие между понятием и его определением.


1	Декоративные линии	А	Линии, образуемые различными отделками
2	Покрой	Б	Линии (швы) расчленяющие поверхность одежды на отдельные детали с целью создания объемной формы
3	Силуэтные линии	В	Вид, придаваемый одежде тем или иным способом выкраивания и пошива
4	Конструктивные линии	Г	Контурные линии одежды, краев деталей

Ответ: 1 - А+; 2 - Г+; 3 - Б; 4 - В.

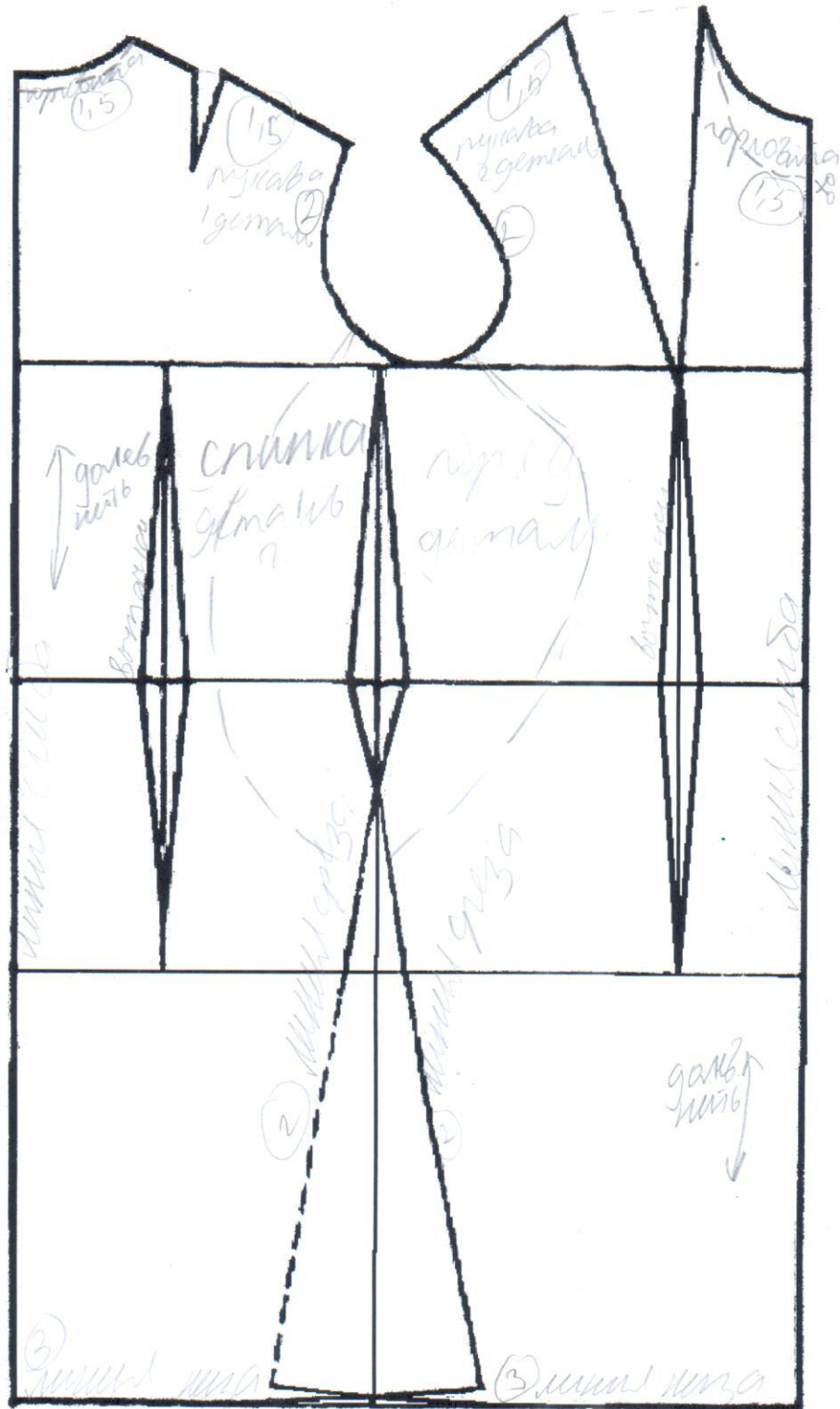
25. Творческое задание (11 баллов):

1. Прочитайте описание модели юбки и рассмотрите эскиз.
2. В соответствии с эскизом нанесите линии фасона на чертеж основы юбки.
3. Перенесите линии фасона на шаблон из цветной бумаги.
4. Изготовьте из цветной бумаги детали выкройки для раскладки на ткани.
5. Наклейте результат выкройки на лист результатов.
6. Нанесите на детали выкройки необходимые надписи для раскроя.

Эскиз	Описание модели
	<p>Юбка прямая, прилегающая, с фигурной кокеткой и драпировкой на переднем полотнище</p> <p>Талевые выточки на переднем полотнище расположены параллельно линии кокетки.</p> <p>Заднее полотнище гладкое с выточками по талии.</p> <p>Линия талии оформлена притачным поясом.</p> <p>Застежка на молнии по левому боковому шву.</p>



Чертеж основы плечевого изделия для моделирования



Первый (школьный) этап Всероссийской олимпиады школьников по Технологии
Ханты-Мансийский автономный округ-Югра
2018-2019 учебный год

Самоконтроль:

- машинные строчки – ровные, аккуратные;
- ширина швов соответствует заданным величинам;
- наличие машинных закрепок;
- качество ВТО;
- соблюдение правил техники безопасности.

**Контроль качества выполнения практической работы
«Выполнение разреза на рукаве»**

№ п/п	Этап контроля	Количество баллов	Баллы
1	Правильная организация рабочего места, наличие формы	2	2
	Определение лицевой стороны ткани	1	1
2	Раскрой деталей выполнен по указанным размерам	1	1
	Направление нитей основы на рукаве и обтачке совпадают	2	2
	Качество разреза, наличие косых надсечек (да/нет)	2	2
3	Качество выметывания обтачки	2	2
4	Ширина отделочной строчки 1÷2 мм	2	2
5	Наличие закрепок (5÷7мм)	2	2
6	Машинная строчка – ровная, аккуратная	2	2
7	Влажно-тепловая обработка выполнена качественно	2	2
8	Соблюдение безопасных приемов труда	2	2
	Всего:	20	20

