

Задание 6. Три друга – Винни - Пух, Пятачок и Кролик пошли гулять в красной, зеленой и синей рубашках. Их туфли были тех же цветов. У Винни - Пуха цвет рубашки и туфель совпадали, у Пятачка ни туфли, ни рубашка не были красными, а Кролик был в зеленых туфлях. Как были одеты друзья?

Винни-Пух - в красных туфлях и в красной рубашке +
 Пятачок - в синих туфлях и в зелёной рубашке +
 Кролик - в зелёных туфлях и в синей рубашке +


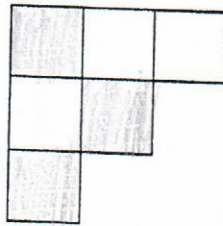

158

Задание 7. Уберите 6 отрезков так, чтобы осталось три квадрата. Обведи или закрась полученные квадраты. Укажи все возможные варианты.

1 способ


2 способ

3 способ



68

Задание 8. Ребята пошли в поход. Сбор занял 20 минут. Столько же ребята шли до леса на лыжах, а затем 18 км по лесу. После небольшого отдыха им осталось пройти половину того пути, что они пошли по лесу. На это они потратили 1 час. Каково расстояние от места сбора до конечного пункта, если ребята шли с постоянной скоростью? Выполни чертёж.



Ответ: _____

05

745