

Первый (школьный) этап Всероссийской олимпиады школьников по ТЕХНОЛОГИИ
Ханты-Мансийский автономный округ-Югра
2018-2019 учебный год

6 класс

Шифр Ш73610

теория 16,5 б
практика 36 б
защита проектов - 45 б

итого: 97,5 б 89%

Лист ответов

1.	1-D, 2-B, 3-B, 4-A.	+
2.	Сварить и порезать мелкими кубиками	+
3.	Лаваш	+
4.	Чтобы они не становились каричневыми	+
5.	1-рукав машины, 2- маховое колесо, 3. Рычаг обратного хода	+
6.	В	+
7.	Б	+
8.	Б	+
9.	А	+
10.	А	-
11.	Б	+
12.	Б, Г	+
13.	Белый и синий	+
14.	В	+
15.	1. Отделка: кружева. 2. Отделка: кружева. 3. Отделка: обриси	+

11,5 + 5 = 16,5 б

5

Задания по номинации *ШЗБ 10*
«Культура дома и декоративно-прикладное творчество»
6 класс

Время выполнения - 60 мин

Теоретический тур
Инструкция для учащихся

1. До начала выполнения тестового задания внимательно прочитайте полностью задание.
2. Выполняйте задания в предложенной последовательности.
3. Не задерживайтесь слишком долго, если не сможете выполнить определенное задание, переходите к следующему, лучше вернуться к нему в конце, если останется время.
4. За каждое правильно выполненное тестовое задание участник конкурса получает - 1 балл, если неправильно выполнено – 0 баллов.
5. **По данному комплекту можно получить максимальное количество – 20 баллов**
(14 баллов за тестовые задания и 6 баллов за творческое задание).

Желаем удачи!

Кулинария.

1. Установите соответствие между продуктом и его видом

1	ряженка	А	пряность
2	перепёлка	Б	орех
3	кешью	В	птица
4	ваниль	Г	рыба
5	сайда	Д	напиток

1	2	3	4	5

2. Отгадайте загадку

Рыженькая, как лисица,
Но сидит она в темнице,
Хвост над грядкой держит ловко
Называется

Что нужно сделать с отгадкой для приготовления винегрета?

3. Отгадайте загадку. Как называется продукт, который едят как хлеб и используют как салфетку?

4. Объясните, для чего нарезанные яблоки сбрызгивают лимонным соком или кладут в подсоленную воду.

Машиноведение.

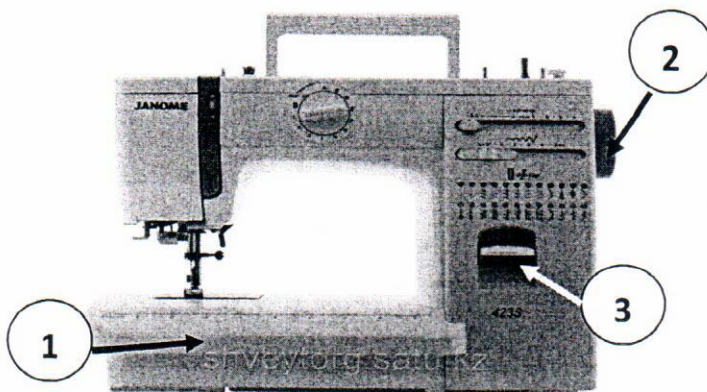
5. Для пошива швейных изделий используется швейная машина.

Перечислите части бытовой швейной машины, отмеченные цифрами

1).....

2)

3)



6. Отметьте знаком “+” правильный ответ

Челночное устройство в швейной машине находится:

- а) в стойке машины; б) в рукаве машины; в) под платформой; г) на платформе.

Материаловедение.

7. Отметьте знаком “+” правильный ответ

Процесс получения ткани из ниток путём их переплетения называется:

- а) прядением; б) ткачеством; в) отделкой.

8. Отметьте знаком “+” правильный ответ


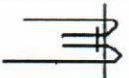
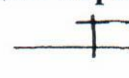

Какую ткань изготавливают из волокна животного происхождения:

- а) лавсан, б) кашемир, в) ситец, г) батист

Технология изготовления изделия

9. Отметьте знаком “+” правильный ответ

Какие швы используют для обработки низа изделия

- а)  б)  в)  г) 

10. Отметьте знаком “+” правильный ответ

Для выполнения стежков временного назначения следует использовать нитки:

- а) белые или черные; б) контрастные к цвету основной ткани; в) в цвет ткани

11. Отметьте знаком “+” правильный ответ

Чертёж изделия на бумаге называется:

- а) отделка б) выкройка в) эскиз г) рисунок

12. Отметьте знаком “+” правильный ответ

Выберете мерки, необходимые для построения чертежа фартука:

- а) Ди б) Ст в) Сг г) Сб д) Друк

Рукоделие

13. Назовите основные цвета, используемые при изготовлении гжельской керамики

14. Отметьте знаком "+" правильный ответ

Какой шов изображен на рисунке:

- а) петельный б) стебельчатый в) тамбурный



15. Творческое задание.

Нарисовать 3 модели фартуков по описанию. Добавить и написать для каждой модели разные декоративные элементы

1	2	3
		
Отелка:	Отелка:	Отелка:
Фартук с нагрудником и двумя карманами	Цельнокроеный фартук карманом по центру	Передник с карманом