

Годиева  
Лилина  
6305

[illegible]

Ответ: 22022222

Ответ: Б-1, Е-2, М-2, У-0.

4:00 ~~суббота~~, т.е. 16-е, в пятницу

Ответ:

705

8 cm

6 4 - 2 5 = 39 (mi)

Ответ: на 3.9 см увеличивается площадь квадрата.

15d.

**Задание 6.** Три друга – Винни - Пух, Пятачок и Кролик пошли гулять в красной, зеленой и синей рубашках. Их туфли были тех же цветов. У Винни - Пуха цвет рубашки и туфель совпадали, у Пятачка ни туфли, ни рубашка не были красными, а Кролик был в зеленых туфлях. Как были одеты друзья?

Винни пух - красный +  
 Пятачок - ~~зеленый~~, синий  
 Кролик - ~~красный~~ синий, зеленый


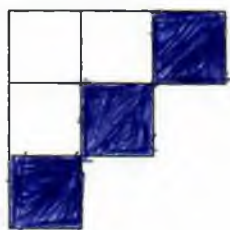
35

**Задание 7.** Уберите 6 отрезков так, чтобы осталось три квадрата. Обведи или закрась полученные квадраты. Укажи все возможные варианты.

1 способ


2 способ

3 способ



35

**Задание 8.** Ребята пошли в поход. Сборы заняли 20 минут. Столько же ребята шли до леса на лыжах, а затем 18 км по лесу. После небольшого отдыха им осталось пройти половину того пути, что они пошли по лесу. На это они потратили 1 час. Каково расстояние от места сбора до конечного пункта, если ребята шли с постоянной скоростью? Выполни чертёж.



Ответ: 2:40 мин

05